



امتحانات أبناؤنا في الخارج



ملف تقييم الأداء

باللغة الإنجليزية

المتخلفين عن

الفصل الدراسي

**الأول**

**2026**

الصف الأول الإبتدائي

اسم الطالب: .....

رقم الجلوس: .....

سفارة جمهورية مصر العربية في دولة: .....

# إرشادات عامة

- يتم تحميل ملف التقييم للطالب باللفة الإنجليزية للطلاب المتقدمين على ( النظام لفات إنجليزي) من خلال المنصة الالكترونية لأبنائنا في الخارج بوزارة التربية والتعليم :

<http://saboard.emis.gov.eg>

- يتم طباعة الملف ويقوم الطالب بالإجابة عن الأنشطة الموجودة.
- يتم رفع الملف بعد الانتهاء من الإجابة عليه على المنصة الالكترونية لأبنائنا في الخارج.
- يتم تحميل الملف ورفعها بعد استكمالها بداية من وضعه على المنصة ولمدة أسبوعين.
- لا يتم ارسال أية ملفات تقييم ورقية ، ويتم التعامل من خلال المنصة الالكترونية فقط
- يتم تحميل الملف ورفعها من خارج جمهورية مصر العربية فقط.

## اللغة العربية

النشاط الأول : ارسم دائرة حول حرف (ج) فيما يلي :-

عمل - جَنَاح - أَمِي - جَدَّتِي - جَدِيد

النشاط الثاني : انطق واكتب الحرف الأوّل مع الضبط بالشكل :-



.....

.....

.....

النشاط الثالث :

رتب الحروف لتكون كلمة :

= ( م - ق - ر )

.....

= ( ت - ب - ك )

.....

= ( ك - ض - ح )

.....

= ( ز - ن - و )

.....

النشاط الرابع : نُوّن الكلمات المفردة باللون الأحمر، والجمع باللون الأزرق:-

كتاب

جمل

أعمال

مزرعة

مناطق

مصنع

النشاط الخامس : اكمل الجمل التالية بفعل مضارع مناسب :-

1- ..... محمد إلى المدرسة.

2- ..... روان الدرس.

3- ..... هند من النادي بعد ساعة.

4- ..... يوسف إلى أسوان.

النشاط السادس : اكتب بخط جميل :-

أنا أعشق وطني مصر

.....

## 1- Look and match the word with the picture.

1- flower

2- butterfly

3- tomato



## 2-Look and circle the correct picture.

1- tree



2- bird



3- grass



## 3- Count and match

1- One



2- Two



3- Three



### نشاط ١

ضع كل كلمة من الكلمات الآتية في مكانها الخالي كما جاءت في سورة "المسد":

(وَمَا كَسَبَ - فِي جِيدِهَا - وَأَمْرَأَتُهُ - وَتَبَّ - نَارًا ذَاتَ )

قال الله ﷻ: ( تَبَّتْ يَدَا أَبِي لَهَبٍ ① مَا أَغْنَىٰ عَنْهُ مَالُهُ ② سَيَصِلَىٰ ③ لَهَبٍ ④ )

④ حَمَالَةَ الْحَطَبِ ⑤ حَبْلٌ مِّن مَّسَدٍ ⑥ )

### نشاط ٢

ضع علامة (√) أمام العبارة الصحيحة وعلامة (x) أمام العبارة غير الصحيحة فيما يأتي:

- ١- المسلم الأمين هو الذي يرد الأمانات إلى أصحابها . ( )
- ٢- نختم الصلاة بالتكبير ونفتتحها بالتسليم . ( )
- ٣- أم النبي ﷺ اسمها أمنة بنت وهب . ( )
- ٤- التأمل في الكون يضيع وقت المؤمن . ( )
- ٥- غسل الوجه في الوضوء يكون ثلاث مرات . ( )

### نشاط ٣

ضع خطًا تحت الإجابة الصحيحة مما بين القوسين فيما يلي:

- ١- خلقنا الله كي ..... ( نلهو ونلعب - نأكل وننام - نعبد ونعمل الخير )
- ٢- رحلة الشتاء لقريش كانت إلى ..... ( العراق - الشام - اليمن )
- ٣- نقول عند الركوع ..... ( سبحان ربي الأعلى - سبحان الله - سبحان ربي العظيم )
- ٤- الصراط المستقيم هو الطريق ..... ( الصعب - المجهول - الصحيح )
- ٥- من أركان الإسلام وتنطق باللسان ..... ( الصلاة - الشهادتان - الصوم )

النشاط الأول: قم بتلوين هذه الصورة واكتب عنواناً لها :-



النشاط الثاني : ضع الكلمات الصحيحة في المكان المناسب :-

( المولود - المجد - الحكمة )

1- "لأن لك الملك والقوة و.....، إلى الأبد. آمين"

2- "فلذلك أيضا القديس ..... منك يدعى ابن الله "

3- "واما يسوع فكان يتقدم في ..... والقامة والنعمة. عند الله والناس"

النشاط الثالث: - ضع علامة ( √ ) أمام العبارة الصحيحة وعلامة ( x ) أمام العبارة غير الصحيحة :-

( )

1 - أطاع نوح الله وبنى الفلك.

( )

2- كذبت السامرية على الرب يسوع.

( )

3- جدد الملك حزقيا الهيكل.

النشاط الرابع: صل الشخصيات الأتية بما يناسبها من الصور المقابلة :-



أ

1- ظهر الملاك لمريم وهي تصلى



ب

2- فيلبس الرسول يعمد الوزير الحبشي



ج

3- سار النجم أمام المجوس حتى وصلوا إلى بيت لحم




د

4- أسرة سعيدة في جنة عدن

## Activity 1 :

a) Match each picture to the correct number.



.

2



.

5



.

3

b) Circle the biggest number.


7

10

6

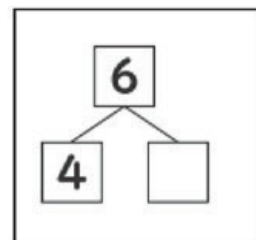
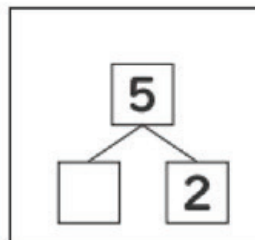
7

c) You have 3 apples. You give your friend 1. How many apples are left?



## Activity 2:


a) Complete.



b) There are 4 bottles of Water and 2 bottles of juice . How many bottles are there in total ?




**c) Circle the longest.**



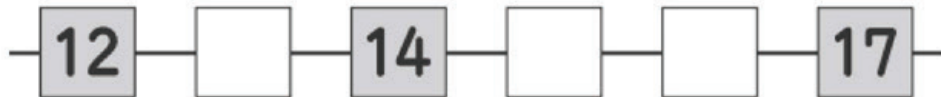
**Activity 3 :**

**a) Look at the picture and Complete.**



 is the  from the top.









































**b) Write the number that goes in the box**



**c) Look at the following figure and answer.**

1) Which has the most?

2) Which has the least?

			
			
			
			
			
			
			
			
			
			
STRAWBERRIES	MELONS	ORANGES	GRAPES

## Activity 1



### ADULTS AND BABIES

DIRECTIONS: Match the adults to the babies.



## Activity 2



### PLANT DIAGRAM

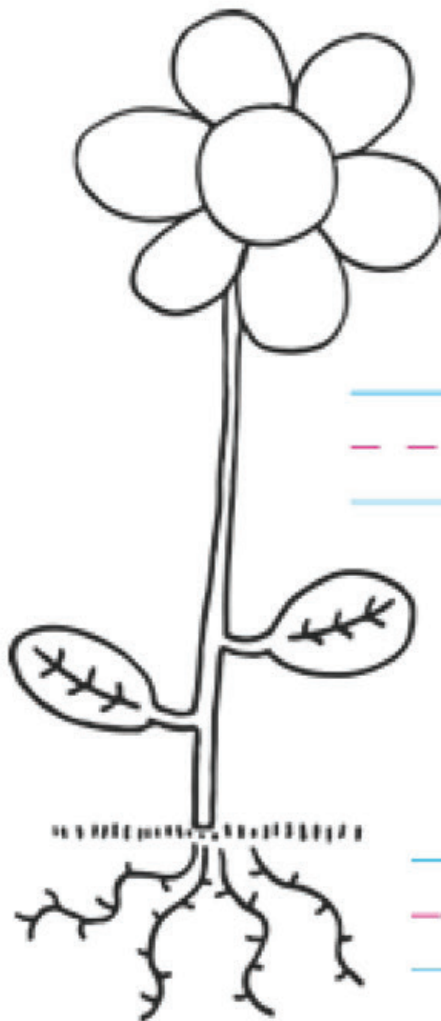
DIRECTIONS: Use the word bank to label the parts of the plant.  
Draw a line from the plant part to its function.

leaves

flower

roots

stem



\_\_\_\_\_

-----

\_\_\_\_\_

Holds the plant in the ground. Soaks water from the soil.

\_\_\_\_\_

-----

\_\_\_\_\_

Holds the plant up. Carries water from the roots to the different parts of the plant.

\_\_\_\_\_

-----

\_\_\_\_\_

Lets in air. Uses sunlight to make food.

\_\_\_\_\_

-----

\_\_\_\_\_

Makes seeds.

1. Look and write the number:

1- She is old.



2- It's a chair.

3- It's a bus.



4- He is young.

2. Read and complete.

**meat – floating – pencil**

1- It's a ..... case.

2- We buy ..... at the butcher's.

3- A ..... home is on the water.

3. Read and match.

1- What is this?

a- two wings.

2- A duck has

b- my bike.

3- I ride

c- It's a bus.

النشاط الأول: صل بين صاحب كل مهنة والمكان الذي يعمل فيه



النشاط الثاني: أنواع الموارد المائية

حدد أي الصور تعبر عن المياه العذبة وأي الصور تعبر عن المياه المالحة



..... مياه



..... مياه

النشاط الثالث: أمامك مجموعة من صور أكتب ما تعبر عنه كل صورة



..... هذه الصورة تعبر عن ..... ويعد أكبرها .....



..... هذه الصورة تعبر عن ..... وبني علي الجهة ..... لنهر النيل

ملف تقييم الأداء

باللغة الإنجليزية

المتخلفين عن

الفصل الدراسي

2026

الأول

الصف الأول الابتدائي